



2015

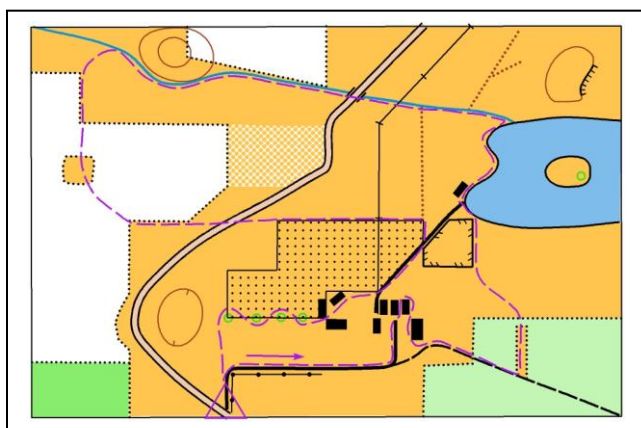
# BALISE BLEUE

Direction Technique Nationale

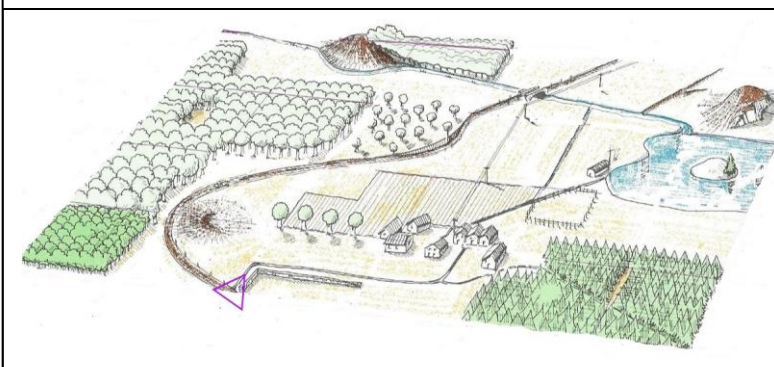
1 - Savoir faire la relation carte terrain. Retracer sur le paysage, à droite, l'itinéraire indiqué en pointillé violette sur la carte à gauche (3 points)

pts

CARTE



PAYSAGE



2 - Donne en texte, les définitions de ces postes de contrôle situés au centre du cercle : (2 points)

pts


3 - Dessine dans les cases prévues, le **symbole de la carte** et donne sa couleur (2 points)

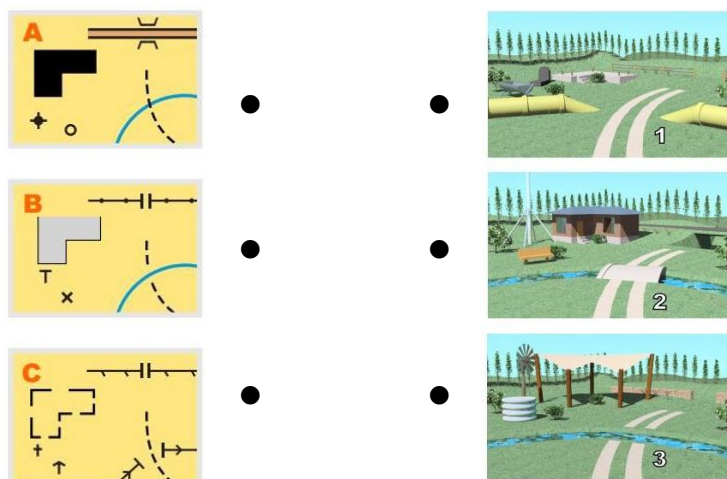
pts

CLOTURE Couleur : .....	RUINE Couleur : .....	FOSSE Couleur : .....	ARBRE ISOLE Couleur : .....
----------------------------	--------------------------	--------------------------	--------------------------------

4 -

Relie la carte au paysage correspondant (1,5 point)

pts



5 - Replace les pièces du puzzle à la bonne place en reportant le chiffre à côté de la lettre. Pour t'aider une réponse est déjà donnée (1,5 point)

pts

A

B

C



1 = C	2 =	3 =
4 =	5 =	6 =

D

E

F

6 - Je suis allé du poste 2 au poste 4 sans passer par le poste 3 que dois-je faire ? Coche la bonne case. (1 point)

pts

- ☐ Continuer mon parcours
- ☐ Repartir au poste 3 le poinçonner puis repasser au poste 4 le re-poinçonner et continuer mon parcours
- ☐ Revenir au poste 3, le poinçonner, ne pas repasser au 4, car j'y suis déjà passé, et continuer mon parcours vers le poste 5-6, etc...

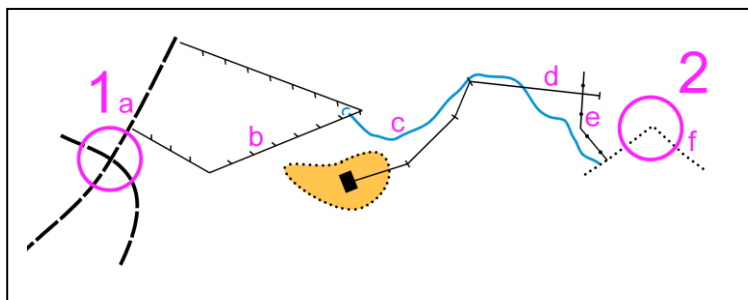
Lorsque que tu as poinçonné la balise d'arrivée, peux tu repartir poinçonner une balise que tu as oubliée sur ton parcours? (1 point)

☐ Oui

☐ Non

7 - Les mains courantes sont des lignes que tu peux suivre facilement sur le terrain et sur la carte.  
Cite les lignes désignées par les lettres que tu peux suivre pour aller de 1 à 2. (1,5 points)

pts



a - .....

d - .....

b - .....

e - .....

c - .....

f - .....

8 - Trouve la balise correspondant à la bonne définition. Reporte la lettre de la balise dans la case de la définition (attention, il y a plus de balises que de définitions) (1,5 point)

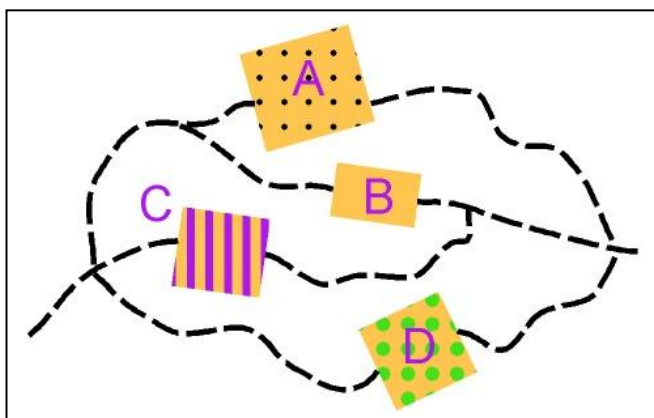
pts



Intersection de chemins	
Mur - Extrémité Sud	
Petite ruine	
Limite de végétation - Angle Sud	
Bâtiment - Angle Nord Est	
Mare - Bord Est	

9 - Si ton itinéraire passe par l'une de ces quatre zones, es-tu autorisé(e) à les traverser. Relie la lettre à la réponse (2 points)

pts



A.

B.

C.

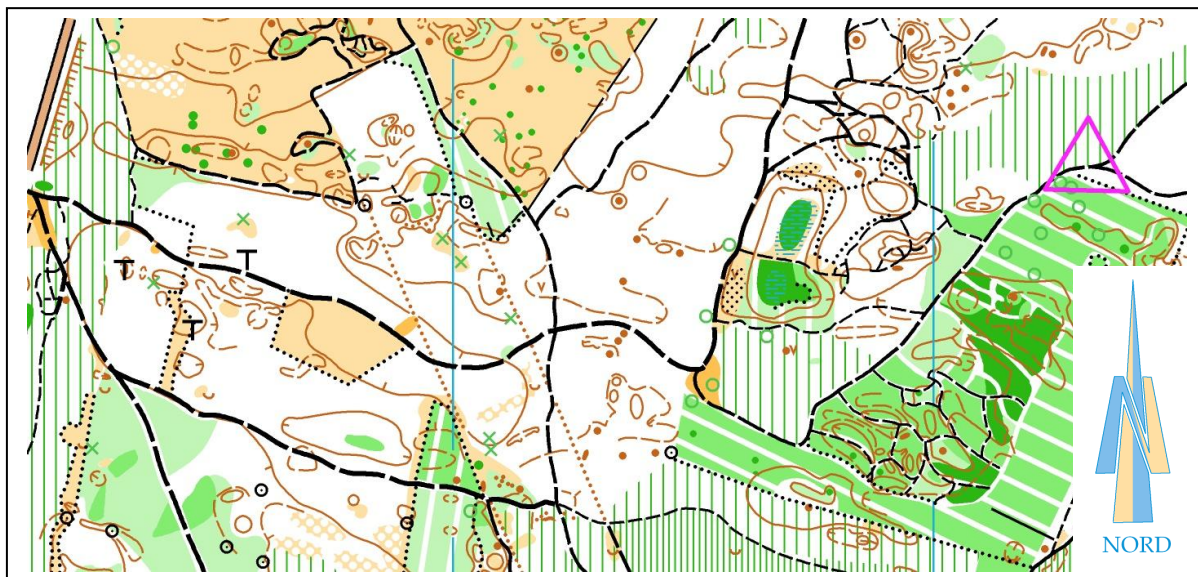
D.

● Autorisé

● Pas autorisé

**10 - Dictée'O.** Essaie de trouver l'emplacement des 3 balises réalisées par cet orienteur en lisant ce qu'il raconte. Quand tu trouves l'emplacement du poste, entoure l'élément sur lequel se trouve la balise. Je te conseille d'orienter la carte et de la lire comme en course (3 points)

pts



"Je suis au triangle de départ. Je prends le chemin indiqué par la pointe du triangle. Je passe une jonction de chemins et je continue tout droit jusqu'à une seconde jonction de chemins. Je tourne, alors, à droite et court jusqu'à la prochaine jonction de chemins où je trouve ma balise sur un arbre particulier. Je repars rapidement par le chemin plein sud, je longe une petite clairière tout en continuant vers l'Ouest. Je passe une intersection de chemins toujours en continuant vers l'Ouest. Arrivé au second fossé qui croise le chemin, je décide de suivre le fossé en direction du Nord Ouest jusqu'à son extrémité où je trouve ma seconde balise sur une borne. Je repars par la zone déboisée en suivant le chemin vers l'ouest qui longe la forêt jusqu'à la jonction des sentiers. Je prends le sentier plein sud jusqu'à la prochaine jonction où je tourne à gauche. Je suis à l'aise sur le chemin. Puis, tout à coup, je m'aperçois que je me suis trompé en voyant la petite tour sur ma gauche. Je fais demi tour et je trouve la limite de végétation que j'avais ratée précédemment. Je la suis plein sud et trouve enfin ma troisième balise dans le déboisé à côté d'une petite tour"