



2015

BALISE JAUNE

Direction Technique Nationale

1. Dessine le symbole correspondant au symbole de la carte et donne sa couleur (2 points)

pts

PETITE TOUR	VIGNE	LEVEE DE TERRE	FALAISE
Couleur :	Couleur :	Couleur :	Couleur :

2. Traduis en texte, les définitions des postes 2, 3, 4 et 5 qui figurent en symbole I.O.F dans la grille ci-dessous. (Voir l'exemple en rouge) (2 points)

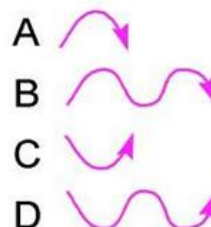
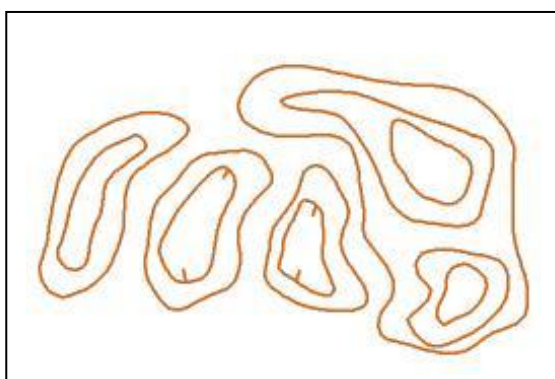
pts

1	34						
2	41						
3	42						
4	55						
5	58						

- Poste 1 (34) = Colline - Pied Sud
- Poste 2 (41) = _____
- Poste 3 (42) = _____
- Poste 4 (55) = _____
- Poste 5 (58) = _____

3. Regarde bien la forme des flèches qui représentent en coupe une forme de relief. Tu dois tracer sur la carte au relief une flèche qui doit retraduire cette forme. Tu marqueras à côté de la flèche que tu auras tracée sur la carte la lettre de référence correspondant à la forme de la flèche (2 points)

pts



4. REGLEMENTATION : Réponds aux questions par Oui ou par Non(1,25 point)

pts

A - Si je prends une mauvaise carte au départ de la course, je peux revenir au départ reprendre la bonne carte et repartir?

☐ Oui ☐ Non

B- Je suis allé du poste 2 au poste 4 sans passer par le poste 3. Si je reviens au poste 3 pour le poinçonner, je peux continuer mon parcours vers le poste 5-6, sans repasser au poste 4, car j'y suis déjà passé?

☐ Oui ☐ Non

C- Lorsque que tu as poinçonné la balise d'arrivée, peux tu repartir poinçonner une balise que tu as oubliée sur ton parcours?

☐ Oui ☐ Non

D- Au départ puis je allé directement à la première balise sans passer par le triangle départ ou la balise départ?

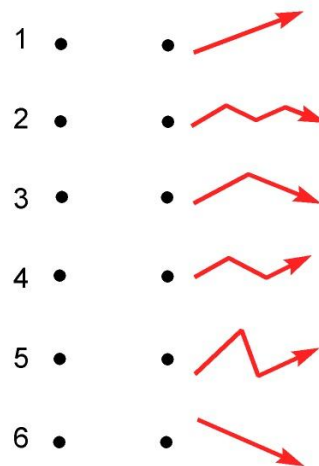
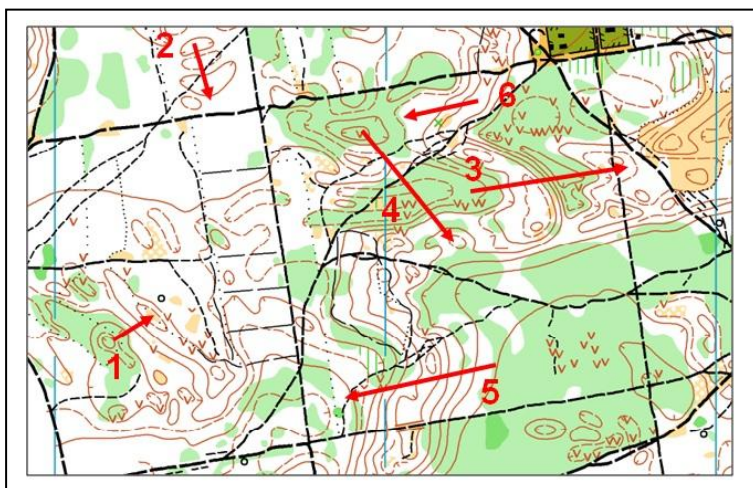
☐ Oui ☐ Non

E - Si un coureur est blessé sur le parcours, je suis dans l'obligation de m'arrêter pour lui porter secours?

☐ Oui ☐ Non

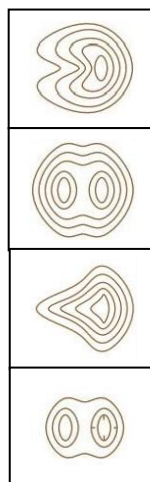
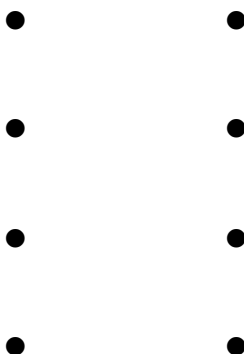

5. En observant la carte ci dessous, relie les chiffres au bon profil en fonction de la trajectoire montante et descendante effectuée par les flèches sur la carte (1,5 point)

pts



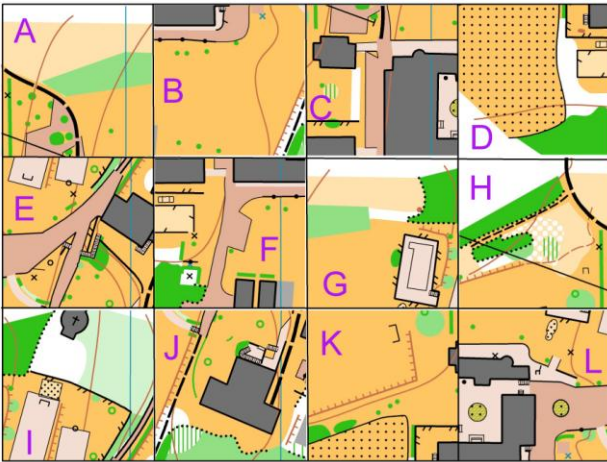
6. Relie par un trait la représentation d'un élément de relief en 3D à gauche, à sa représentation cartographique à droite (2 points)

pts



7. Remplace les pièces du puzzle à la bonne place en reportant les lettres dans les cases. Pour t'aider
3 réponses sont déjà données (2,25 points)

pts



H			
		L	
			J

8. Sur la carte ci-dessous, trace ton itinéraire pour aller du poste 3 au poste 4. Puis, tu indiqueras le ou les points d'appui que tu utilises par une flèche, ton point d'attaque par une croix, ta ligne d'arrêt par une ligne marquée LA, voir la légende. (2 points)

pts

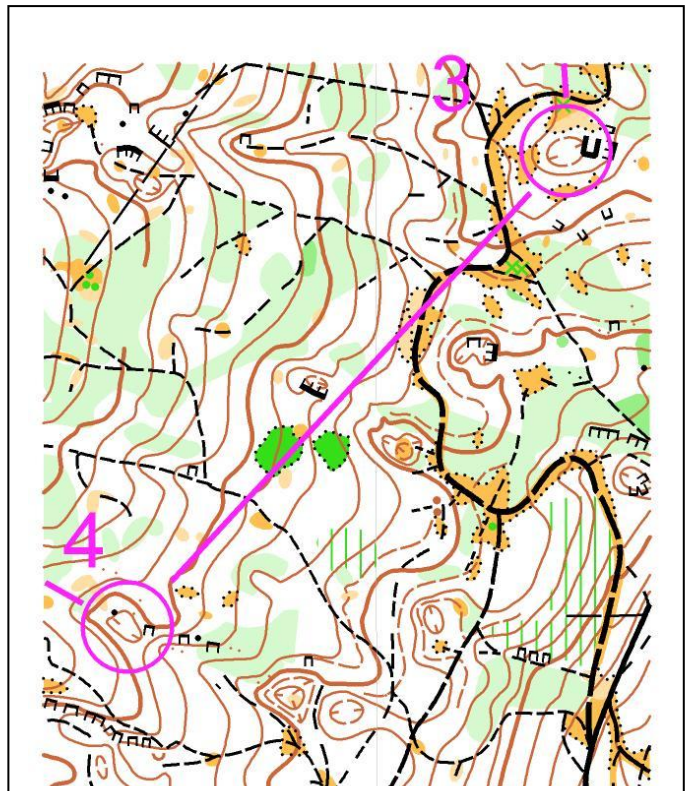
LEGENDE A UTILISER

Itinéraire = -----

Point d'appui = —————>


Point d'attaque = X

Ligne d'arrêt = LA



9. Donne la signification de ces symboles (2 points)

pts



10 - **Dictée'O**. Essaie de trouver l'emplacement des 3 balises réalisées par cet orienteur en lisant ce qu'il raconte. Quand tu trouves l'emplacement du poste, entoure l'élément sur lequel se trouve la balise. Je te conseille d'orienter la carte et de la lire comme en course (3 points)

pts

« Je suis au triangle de départ. Je prends le chemin direction du Nord Ouest. Arrivé à la jonction je prends un azimuth plein Ouest et je trouve rapidement ma première balise dans une dépression déboisée. Je repars plein nord pour rejoindre le chemin que je suis vers l'Ouest jusqu'à une jonction de chemins. Je quitte le chemin toujours en direction de l'Ouest jusqu'à ce que je repère l'avancée que je suis sur son versant Sud afin de ne pas rater ma seconde balise qui je trouve sur un gros rocher. Je me dirige ensuite rapidement en direction du Nord Est, coupe un premier chemin et continue dans la même direction. Je me retrouve à une clôture avec à proximité d'un marais qui est mon point d'attaque. Un coup de boussole plein nord , je passe un col et je me retrouve dans un rentrant où je trouve ma troisième balise ».

