



2018

BALISE VERTE

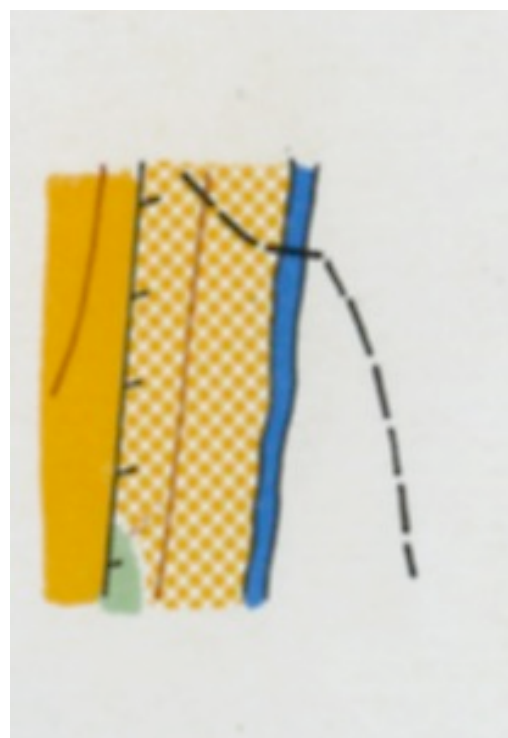
Direction Technique Nationale

1. Observe bien le paysage ci-dessous (2 points)

pts



PAYSAGE



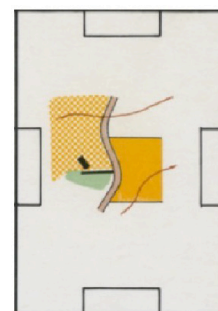
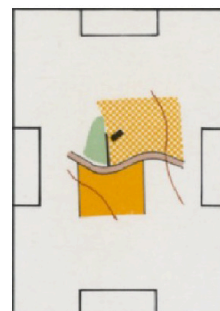
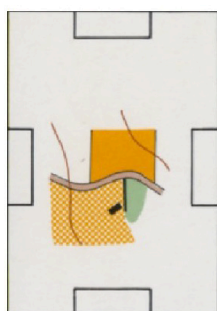

CARTE

Après avoir bien observé le paysage, tu dois disposer un groupe de rochers, un fourré et une butte allongée sur l'extrait de la carte qui n'est pas forcément orientée



2. Tu dois savoir orienter ta carte. Tu es situé comme devant l'image avec le Nord indiqué. Inscris le Nord sur les extraits de carte non orientés (2 points)

pts



3. De quelle couleur est représenté un talus sur la carte? (1 point)

pts


4. Relie le symbole à sa couleur (1 points)

pts

MARAIS	•	• JAUNE
DEPART	•	• BLEU
MUR	•	• MAGENTA (rose foncé)
CHAMP	•	• NOIR









5. Donne la définition de ce symbole : (1 point)

pts

	<input type="checkbox"/> Limite précise de végétation <input type="checkbox"/> Sentier <input type="checkbox"/> fossé
---	---

6. Relie par un trait le symbole à sa définition (4 points)

pts

	•	. grotte
	•	. ligne électrique
	•	. charbonnière
	•	. haie
	•	. marais infranchissable
	•	. terrain sablonneux
	•	. talus
	•	. trou

7. Un boîtier électronique au poste ne fonctionne pas (1 point)

pts

Je continue ma course et le signale à l'arrivée
 Je ramasse un confetti et poursuis ma course
 Je trouve la pince et poinçonne ma carte

☐
☐
☐

pts

8. Reporte sur la carte en bas à droite les 6 balises figurant sur la photo aérienne. (3 points)



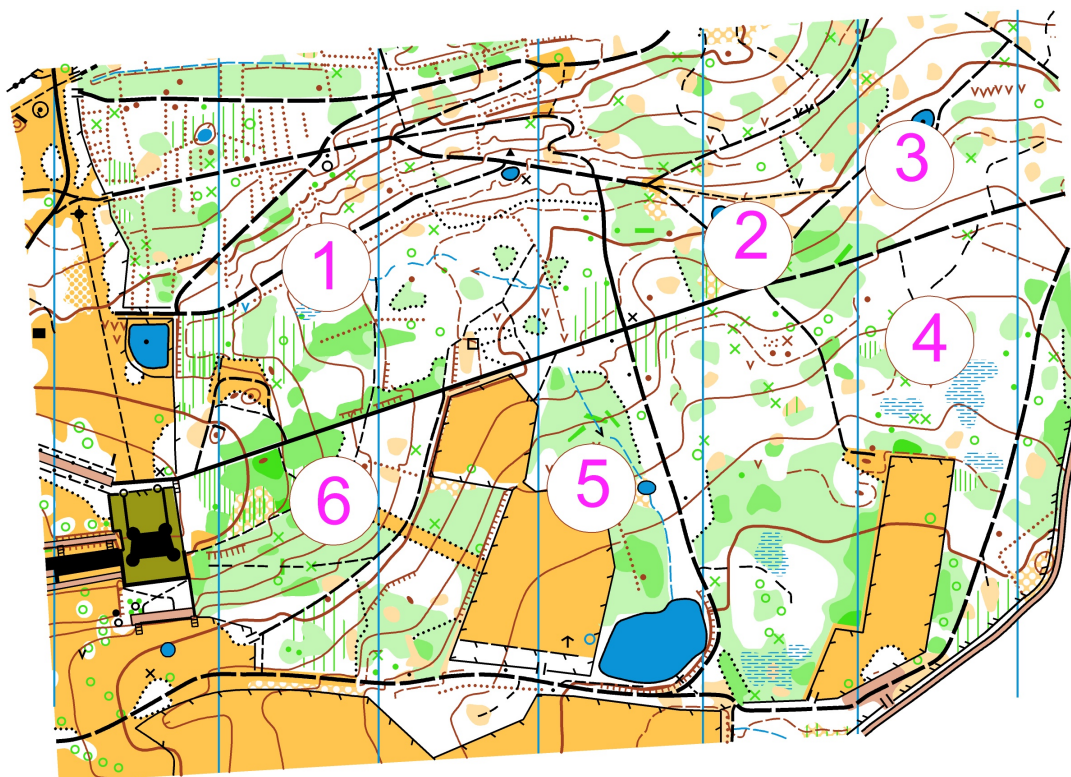
PHOTO AERIENNE

CARTE



9. Replace les pièces du puzzle à la bonne place en reportant le chiffre à côté de la lettre. (3 points)

pts



D=



F=



E=



B=



A=

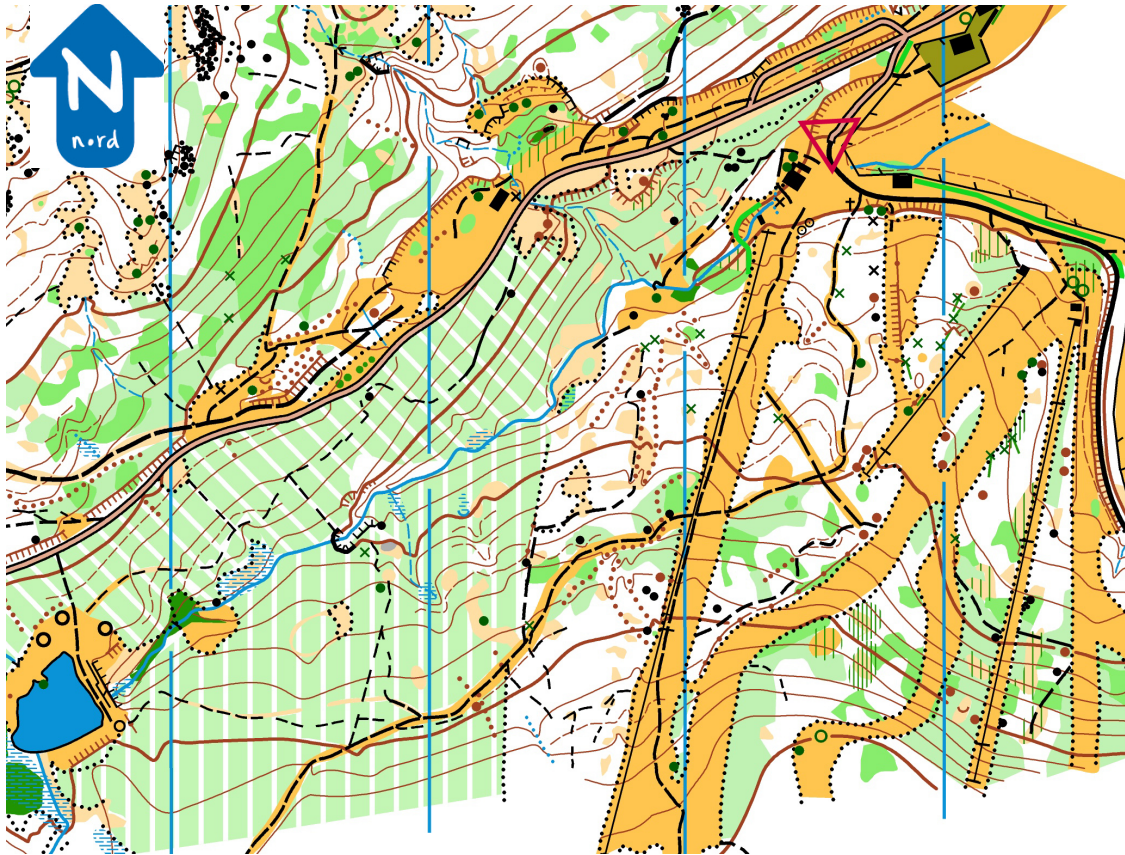


C=

10. Dictée'O (2 points)

pts

Essaie de trouver l'emplacement de 4 balises réalisées par cet orienteur en lisant ce qu'il raconte. Quand tu trouves l'emplacement du poste, entoure l'élément sur lequel se trouve la balise et marque son numéro. Je te conseille d'orienter la carte comme si tu la lisais en course (2 points)



« Je suis au triangle de départ. Au top départ, je quitte la partie goudronnée et suis le chemin devant moi . A la première jonction, je prends à droite dans la forêt. Juste après un coude du sentier, j'arrive à un carrefour où je découvre mon premier poste .

Je continue en direction du Sud-Ouest et traverse la piste de ski ; je remarque les câbles du télésiège et rentre à nouveau en forêt. Je longe un fossé sur ma gauche; après une courbe à gauche, je parviens à une jonction de chemins où je remarque une souche sur ma droite : mon poste 2 se situe là.

Je repars dans la même direction, je coupe un fossé puis parviens à une jonction. Je ne prends pas le chemin à gauche et continue jusqu'à la jonction suivante peu visible ; après un coude à gauche, je parviens à une retenue d'eau : mon poste se situe là, à l'extrémité Nord-Est du talus.

Pour atteindre mon quatrième poste, je longe la retenue d'eau par le chemin à l'Est et à l'angle Nord du découvert j'emprunte la petite trace à droite; je dépasse deux jonctions de sentiers et parviens à un coude où je devine un bloc rocheux : mon poste 4 se situe derrière. »